

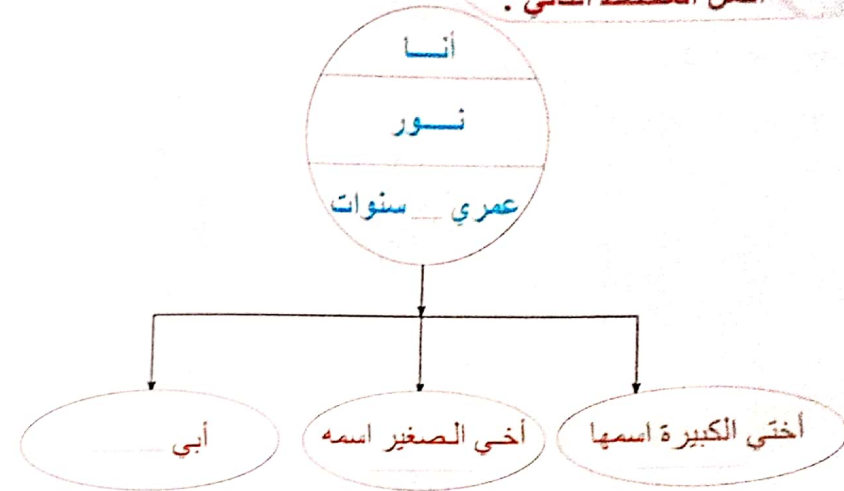
رؤية لمنهج متعدد التخصصات

اكتشف



عائلة نور

نشاط ١ أكمل المخطط التالي :



نشاط ٢ اختر الصواب :

- ١ يعيش عمي وعمتي واثنين من أبناء العم في
- ٢ الجدة (تشتري الطعام - تعتنى بأخي سمير - تعمل أثناء النهار)
- ٣ تنظف المنزل (جدتي - عمتي - أمي)

نشاط ٣ ضع (✓) أمام العبارة الصحيحة و (x) أمام العبارة غير الصحيحة :

- أ محادثة زميلي في الهاتف من أولويتي خلال اليوم . ()
- ب الذهاب إلى المدرسة من أولويتي خلال اليوم. ()
- ج لعب كرة القدم من أولويتي كل يوم. ()

سلسلة كتب بكار

اكتشف

٢٢٨

نشاط : ضع دائرة حول الصورة التي تمثل حلا للمشكلة التالية :

✓ نور يتأخر عن المدرسة :



✓ نور مازال يشعر بالجوع :



✓ مشكلة ازدحام الطريق :



المصف الثاني - الفصل الدراسي الأول

أساليب تحقيق السلام

نشاط ١ صل كل كلمة بما يناسبها :

- الاعتذار → هو موافقة معظم الأفراد على رأي أو فكرة.
- طلب المساعدة → الاستفادة من خبرات الآخرين
- المناقشة → طلب العفو عن خطأ
- التوافق → حوار بين شخص وآخر أو مجموعة









نشاط ٢ ضع (✓) أمام الكلمة الصحيحة :

(من أساليب تحقيق السلام

- ١ الزيارات. ()
- ٢ التهاني. ()
- ٣ طلب المساعدة. ()
- ٤ رفض الرأي الآخر. ()
- ٥ الاعتذار. ()

نشاط ٥ ضع (✓) أسفل الصورة المناسبة :

موافق  غير موافق 

- أفسحت مكاناً لزميلك : ✓  
- تلعب الكرة وقت المذاكرة : ✓  
- أكتب في كتاب النشاط الخاص بزميلي : ✓  
- أسمع قصة قصيرة من أمي قبل النوم : ✓  

نشاط ٥: رتب الصور التالية لتكون دورة حياة الطائر:



نشاط ٦: رتب خطوات إطعام الأفراخ الصغيرة:

- ()
()
()

١ الأم تستخدم منقارها لإطعام صغارها.

٢ الأم تحلق في السماء.

٣ الأم تلتقط إحدى الحشرات.

منهج متعدد التفصيصات

نشاط ٣: صل: الطفل الرضيع بما يحتاج إليه:

السهر

رعاية

نظافة



لبن

حاسب
آلي

نشاط ٤: صل كل صورة بصغيرها:




النسر الذهبي

نشاط ١ اختر الصواب :

- ١ أهم عضو للنسر (الجناحان - المخالب) والذي يساعده في تناول الطعام
- ٢ بينما يتمتع بـ (ساقين - جناحين) كبيرين يساعده في الطيران بسهولة.
- ٣ يأكل النسر (لحوم - ريش) الحيوانات.
- ٤ منقار النسر (قصير - حاد).

نشاط ٢ صل كل كائن حي بالطعام المناسب له :



نشاط ٣ صل :

- ← منقار النسر قوي
 - ← عيون النسر كبيران
 - ← للنسر جناحان واسعة و قوية
 - ← مخالب النسر قوية
- يمسك بها فرانسسه
- تمكنه من الرؤية الشديدة
- يساعده في الطيران
- يساعده في تناول الطعام

نشاط ٤ ارسم منقارًا لهذا النسر المسكين :



نشاط ٥ أكمل :

المشكلة	السبب	الحل
النسر المسكين يتألم

صل كل طعام بمصدره :



نبات

حيوان

نشاط ١٠ صل :

يجعل جسمي بصحة جيدة.

أستمع إلى قصة.

بصحة أولادها.

كل يوم لمدة ٣٠ دقيقة.

يجب أن نمارس الرياضة

الأم تعتني

قبل النوم

الحصول على وقت كاف من النوم

منهج متعدد التخصصات

نشاط ٩ اختر الصواب :

- ١ المهندس هو شخص يعمل على الحياة .
(حل مشكلات - رسم - كتابة)
- ٢ (نيت كالفين) يعمل
(معلمًا - طبيبًا - مهندسًا)
- ٣ النسر يتألم بسبب
(كسر منقاره - مرضه - جوعه)
- ٤ تعاون (نيت كالفين) مع مهندسين آخرين في
(رسم لوحة - تصميم بيت - صنع منقار للنسر)

نشاط ٧ أكمل الجدول التالي :

فائدتها	الأطعمة الغنية بها	اسم المجموعة الغذائية
.....	اللحوم والدواجن والأسماك والبقول
توفر	الفاكهة
تساعدنا في نمو الأسنان والعظام
توفر الطاقة والحركة	الخبز و و

نشاط ٨ ضع علامة (√) تحت الهواية التي تفضلها :



خضراوات حديقتنا

نشاط ١ اختر الصواب :

- ١ توجد حديقة الخضراوات
(على سطح المبنى - أمام المنزل - في الحقل)
- ٢ جمعنا الخضراوات لتحضير
(الإفطار - الغذاء - العشاء)
- ٣ من الخضراوات
(الموز - السبانخ - البلح)

نشاط ٢ ضع ✓ أسفل الصورة التي تعبر عن الخضراوات :



نشاط ٣ أكمل الجدول التالي :

الحل	السبب	المشكلة
.....	صعوبة قطع الباذنجان
.....	الحوض ملى بالأطباق
.....	عدم وجود مكان لزراعة الخضراوات

حل المسائل

نشاط ١ اختر المسألة المناسبة للحل التالي :

الحل



عدد الدقائق التي تلعبها نور = ٣٠ + ٥ = ٣٥ دقيقة

- ١ تريد نور لعب كرة القدم لمدة ٣٠ دقيقة ،
ثم لعب قفز الحبل لمدة ١٠ دقائق
فكم عدد الدقائق التي ستلعب فيها نور ؟

- ٢ تريد نور لعب كرة القدم لمدة ٣٠ دقيقة ثم قفز الحبل لمدة ٥ دقائق
فكم عدد الدقائق اللازمة لذلك ؟

نشاط ٢ اقرأ وأجب :

طلب منك تناول ٥ مقادير من الخضراوات كل يوم ، وقد تناولت مقاديرين عند الإفطار ومقدار في الغذاء ، كم عدد المقادير التي يجب تناولها في العشاء لكي تحقق المطلوب ؟

نشاط ٢ : صل كل أداة بصاحب المهنة المناسب لها :



عامل البناء



موظفة فى الفندق



الفلاح



موظف فى البنك

منهج متعدد التخصصات

نشاط ٤ : صل :

الخضراوات →

← ساق الباذنجان

ملء بالطباق →

← الحوض

ملء بالشوك →

← يجب غسل

نور ومهن والديها

نشاط ١ : صل :

→ تعلم التلاميذ.

← والد نور يعمل

→ عامل بناء فى محافظة القاهرة.

← أم نور تعمل

→ يزرع الأرض.

← الفلاح

→ مسئولة خدمات فى أحد الفنادق.

← المعلمة

٣ نشاط اختر الصواب :

تعمل أمي ٥ أيام في الأسبوع وتنفق كل يوم ١٠ جنيهات ثمنًا لتذكرة الحافلة .

* أمي تنفق في الأسبوع جنيهًا. (٦٠ - ٥٠ - ١٥)

٤ نشاط انظر للصورة وتخير المهنة التي تعتقد أن نور يهتم بها :



(تربية الحيوانات الأليفة - الرسم - زراعة الأرض)

٥ نشاط صنف الكلمات التالية في الجدول :

(شمس - قمر - سحب بيضاء - نجوم)

السماء ليلا	السماء نهارًا

منهج متعدد التخصصات

زيارة إلى عمي وعمي

١ نشاط اكتب الجمل التالية في الجدول حسب تصنيفها :

- أ بيع الملابس للآخرين.
- ب مهندس لأنظمة تكنولوجيا المعلومات.
- ج حساب تغلفة الملابس.
- د اختيار أجهزة برامج أجهزة الكمبيوتر.
- ه كتابة تقارير إلى أصحاب الشركة.

العمل في متجر ملابس	العمل في أنظمة المعلومات

٢ نشاط ضع (√) أمام العبارة الصحيحة ، (×) أمام العبارة غير الصحيحة :

والدة نور تعمل في أحد الفنادق ولذلك فهي :

- ١ تساعد الزائرين ليستمتعوا بالمدينة. ()
- ٢ تقدم اقتراحات بشأن المطاعم. ()
- ٣ تقدم معلومات عن أماكن الزيارة. ()
- ٤ تقرأ القصة للتلاميذ. ()
- ٥ وضع جدول يومي لأحد الضيوف. ()

السماء العميقة والفضاء

نشاط ١ صل :

عدد كبير من المجرات

المجرة

تحتوي على عدد كبير جداً من النجوم

التلسكوب

جهاز يساعد على رؤية الأشياء
المعتمة والبعيدة في السماء

الكون به

نشاط ٢ احذف الأماكن التي لا توجد في مصر :

(بيئة جبلية - بيئة صحراوية - غابات - محيط -

بحار - نهر - بيئة صناعية - بيئة ساحلية)

البيئات المصرية

نشاط * لون اسم البيئة المناسبة للصورة :

هذه بيئة



زراعية صناعية صحراوية

هذه بيئة



صناعية ساحلية صحراوية

هذه بيئة



زراعية ساحلية صحراوية


هذه بيئة



زراعية زراعية ساحلية

ضع دائرة حول الطيور التي تعيش في مصر :

نشاط ٢



البيئات الطبيعية في مصر

حوظ الكلمة أو الكلمات الصحيحة :

نشاط *

- ١. أتوقع أن أجد في المدينة . (شجرة - فار - نحلة - ثعلب)
- ٢. أتوقع أن أجد في الصحراء . (جمال - سمكة - خنفساء - قطة)
- ٣. أتوقع أن أجد في البيئة الزراعية . (ثعلب - نحلة - زهرة - جمال)
- ٤. أتوقع أن أجد في البيئة الساحلية . (سمكة - خنفساء - طائر - زهرة)

اكتشف

طيور تعيش في مصر

نشاط ١ صل :



اسم الطائر	صورة الطائر	بعض صفاته
- حمام		- صديق الفلاح
- (اوز)		- ينتشر في مصر و يرمز للسلام
- (أبو قردان)		- تختلف أصوات الإناث عن الذكور

اكتشف

٢٤٦

طبيعي أم من صنع الإنسان؟

نشاط ١ اكتب كلمة (بشرية - طبيعية) أسفل كل صورة :



نشاط ٢ صل :

تصنع الكبارى وهياكل السيارات من

الزجاج

نصنع من الأشجار

الحديد

نحتاج لرى الأراضى الزراعية

الماء

تصنع واجهات النوافذ من

الخشب

اكتشف


٢٥٠

سلسلة كتب بكار

بكار

هل الشمس نجم؟

نشاط ١ انظر للصورة ولاحظ :



الشمس ينتج عنها و إذن الشمس نجم.

نشاط ٢ ضع ✓ أو × :

أنا أستطيع أن أقرأ فى ضوء الشمس. ()

أنا أرى الظل للشجرة. ()

أشعر بالدفء عند شروق الشمس. ()

القمر نجم مثل الشمس. ()

٢٥١

اكتشف

المصف الثانى - الفصل الدراسى الأول

حالات الماء الثلاثة

صنف الكلمات التالية في الجدول :

١ نشاط (ثلج - خشب - ماء - زيت - لبن - هواء - بخار ماء - عصير)

صلبة	سائلة	غازية
.....
.....
.....

٢ نشاط صل كل كلمة بما يناسبها:



صلب



سائل



غاز

٢٥٣ اكتشاف

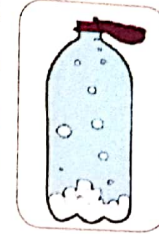
الصف الثاني - الفصل الدراسي الأول

منهج متعدد التخصصات

هيا ننفخ بالوناً


١ نشاط رتب خطوات نفخ البالونة مستعيناً بالصور :

نثبت البالون
بالزجاجة بحيث
يتدلى من جانب
الزجاجة



()

نرفع البالون لأعلى
حتى تدخل بيكرونات
الصوديوم إلى الزجاجة




()

نضع قمعاً من
الورق



()

نضع بيكرونات
الصوديوم
في فوهة القمع
الكبيرة حتى تدخل
البيكرونات إلى
البالون



()

٢ نشاط أكمل :



(مادة)




(مادة)

زيادة
التسخين



(مادة)

تسخين



(مادة)

سلسلة كتب بكار

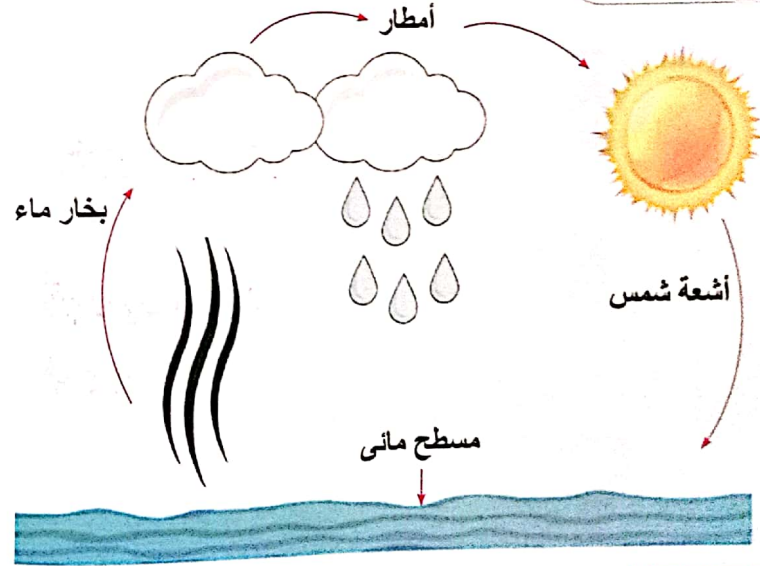
٢٥٢ اكتشاف

عالمنا الذي نعيش فيه

نشاط ١ صل :

- ← مصر جزء من عالم كبير يسمى ← يشمل الأنهار والبحار والمحيطات.
- ← يتكون كوكب الأرض من ← الغازية
- ← الثلج من المواد ← يابسة - ثلج - ماء - سحب
- ← السحب من المواد ← الصلبة
- ← الماء على سطح الأرض ← كوكب الأرض

نشاط ٢ تحدث :



نشاط ٣ ضع (√) أمام العبارة الصحيحة (x) أمام العبارة غير الصحيحة :

- ١ تتكون البيضة النيئة من مادة صلبة ومادة سائلة. ()
- ٢ يمكن إعادة البيضة المسلوقة إلى حالتها الأولى. ()
- ٣ تغيرت حالة البيضة بارتفاع درجة حرارة. ()

معالم تذكارية مصرية

نشاط * صل :


مسجد أثري



معبد فرعونى



كوبري حديث



أهرامات الجيزة

